

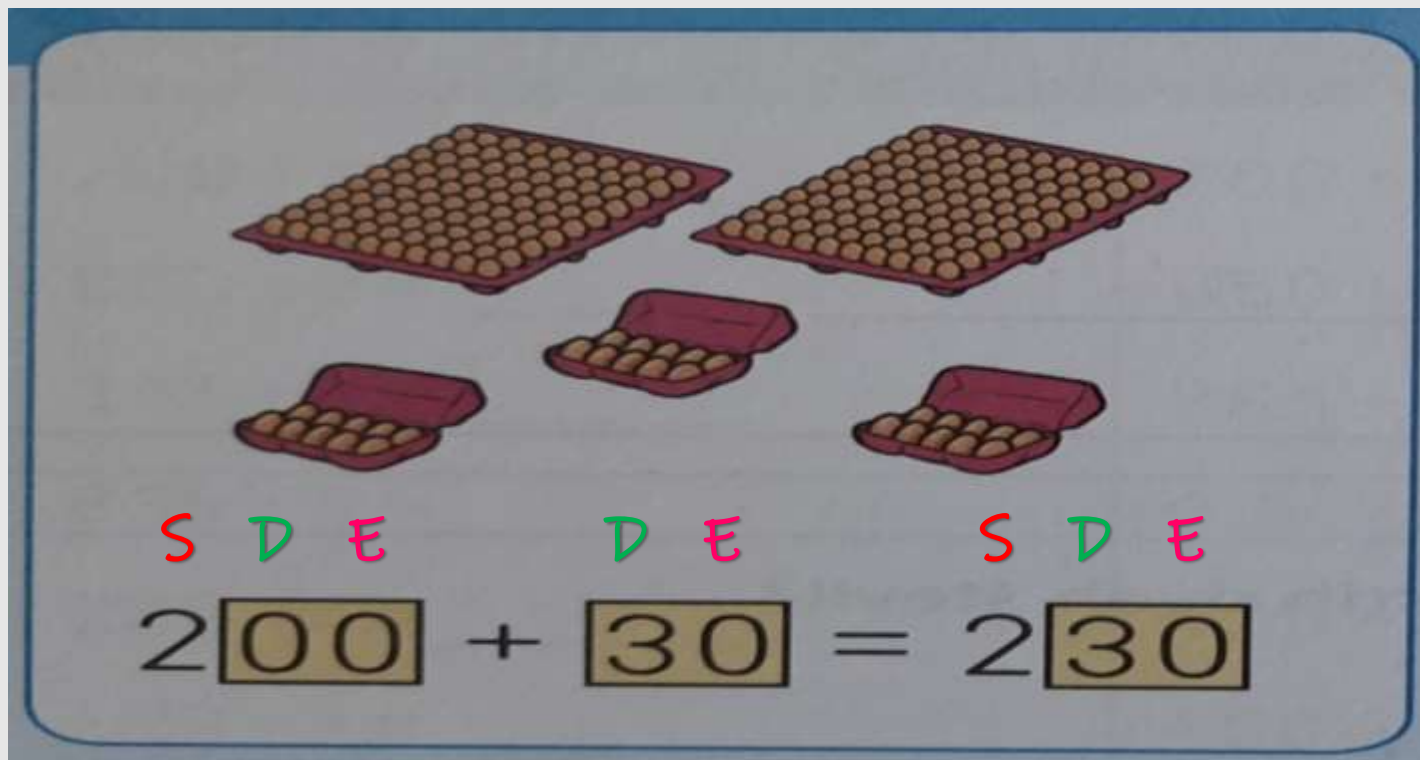
Hi



# MATEMATIKA

PRIŠTEVANJE DESETIC  
ŠTEVILOM DO 1000

Helena Sirotko



Posebej bodi pozoren-a na položaj desetice (D).

Pri prištevanju desetice (D),  
stotice (S) in enice (E) ostanejo enake.

Tako kot smo prištevali

enice (E),

se bomo lotili tudi

prištevanja desetice (D).

Preden pa zares začnemo,

se najprej spomnimo,

da pladenj jajčk

predstavlja stotico (S),

škatla pa desetico (D).

1. Koliko je jajc? 4S 2D

Odgovor: \_\_\_\_\_

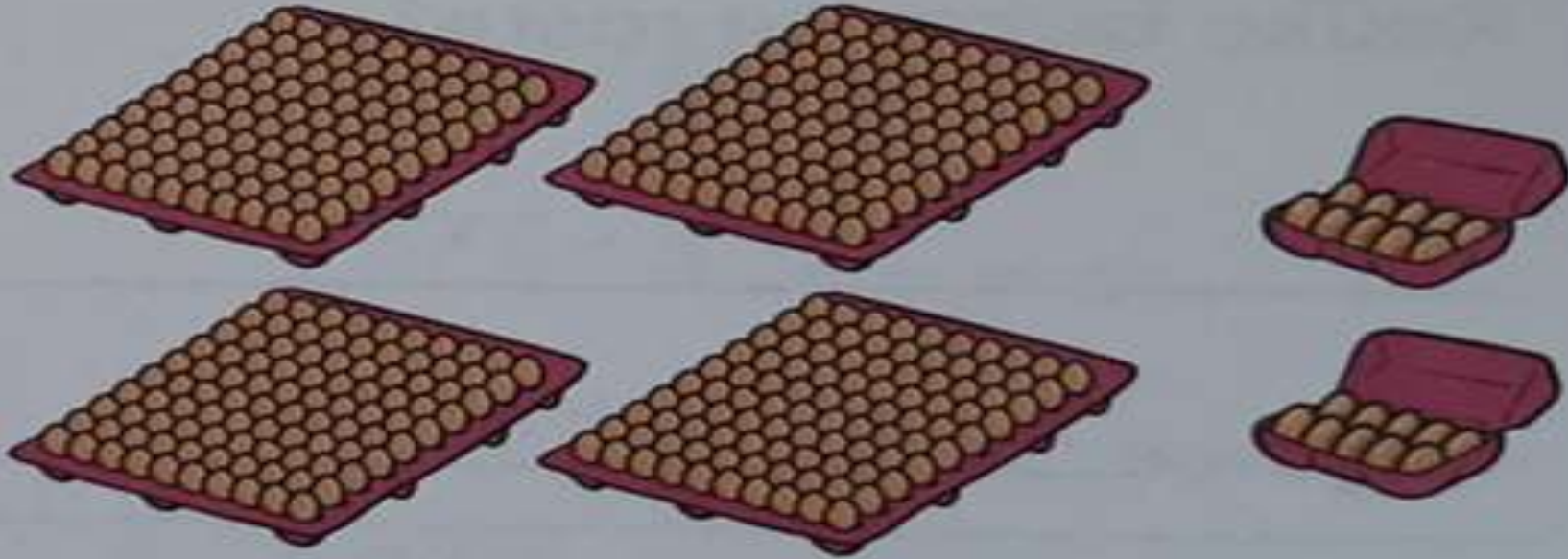
Prva naloga je enostavna:  
prištejmo torej pladnju jajčk (S),  
škatle jajčk (D).

Reši tudi ostale naloge v LB str. 36.

Šele na koncu si preglej pravilnost rešitev na naslednji strani.

1.

Koliko je jajc?



$$400 + 20 = 420$$

---

Odgovor:            Jajc je 420.

## 2. Seštej.

$$\begin{array}{r} 600 + 50 = \underline{\quad\quad\quad} \\ 500 + 80 = \underline{\quad\quad\quad} \\ 800 + 70 = \underline{\quad\quad\quad} \\ 900 + 60 = \underline{\quad\quad\quad} \\ 100 + 30 = \underline{\quad\quad\quad} \end{array} \begin{array}{r} 650 \\ 580 \\ 870 \\ 960 \\ 130 \end{array}$$

$$\begin{array}{r} 700 + 70 = \underline{\quad\quad\quad} \\ 400 + 30 = \underline{\quad\quad\quad} \\ 300 + 40 = \underline{\quad\quad\quad} \\ 200 + 90 = \underline{\quad\quad\quad} \\ 500 + 90 = \underline{\quad\quad\quad} \end{array} \begin{array}{r} 770 \\ 430 \\ 340 \\ 290 \\ 590 \end{array}$$

$$\begin{array}{r} 300 + 80 = \underline{\quad\quad\quad} \\ 700 + 10 = \underline{\quad\quad\quad} \\ 800 + 20 = \underline{\quad\quad\quad} \\ 400 + 50 = \underline{\quad\quad\quad} \\ 200 + 40 = \underline{\quad\quad\quad} \end{array} \begin{array}{r} 380 \\ 710 \\ 820 \\ 450 \\ 240 \end{array}$$

## 3. Dopolni.

seštevanec	900	400	600	100	500	800	700	200	300
seštevanec	20	30	80	10	40	90	50	70	60
vsota	920	430	680	110	540	890	750	270	360

4.

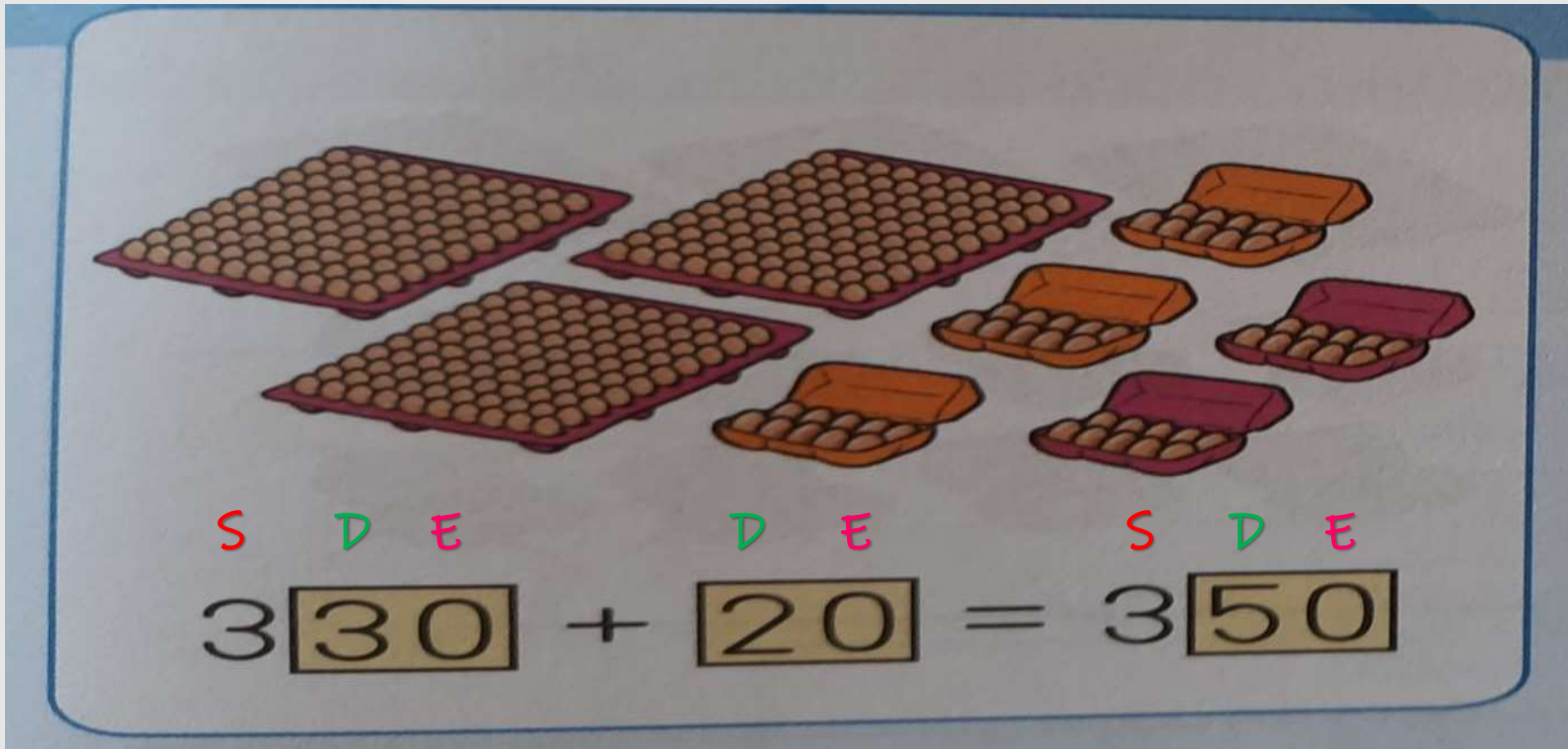
Tadej je imel v albumu 100 nalepk. Nalepil je še 50 nalepk in napolnil album.

Koliko nalepk je imel v polnem albumu?

$$\underline{100 + 50 = 150}$$

V polnem albumu je imel 150 nalepk.

Odgovor: \_\_\_\_\_



Na enak način tudi tukaj med seboj seštejemo desetice (D).

Stotice (S) in enice (E) ostanejo enake.

5.

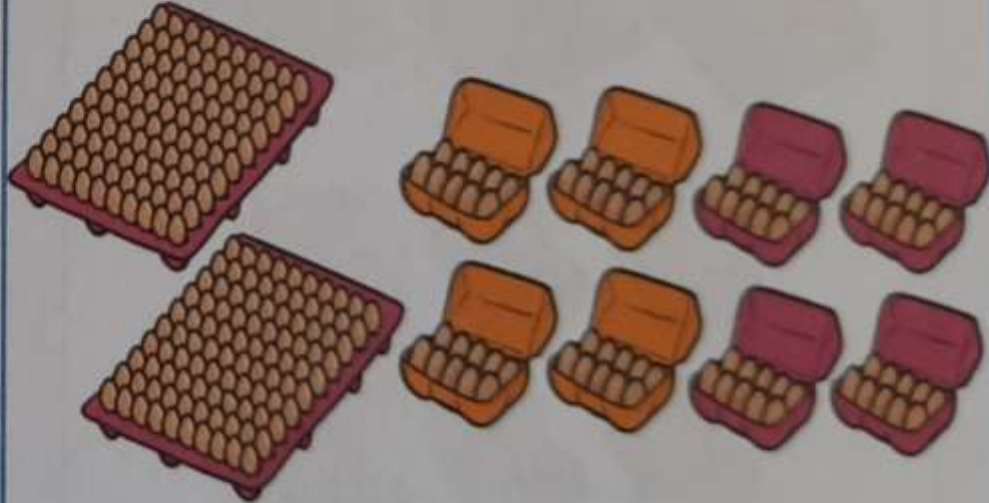
Koliko je jajc?

2S

4D

+

4D



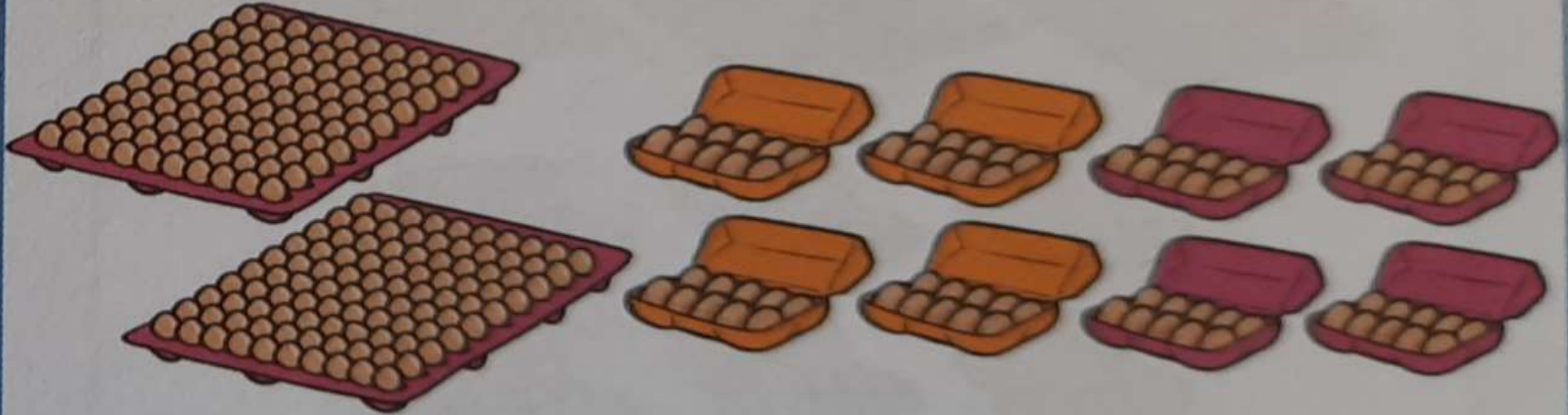
Odgovor: \_\_\_\_\_

Peta naloga je enostavna:  
prištejmo torej  
pladnju jajčk (S) in škatlam jajčk (D),  
še nekaj škatel jajčk (D).

Reši tudi ostale naloge v LB str. 37 in  
si šele na koncu preglej pravilnost  
tvojih rešitev.

5.

Koliko je jajc?



$$240 + 40 = 280$$

Odgovor: Jajc je 280.



6. Ustrezne črke vpiši pod rezultate v tabelah.  
Preberi, katere snovi je Leon danes prinesel v šolo.

$570 + 20 = \underline{\hspace{2cm}}$

$450 + 30 = \underline{\hspace{2cm}}$

$710 + 60 = \underline{\hspace{2cm}}$

$880 + 10 = \underline{\hspace{2cm}}$

$310 + 20 = \underline{\hspace{2cm}}$

$140 + 50 = \underline{\hspace{2cm}}$

$660 + 20 = \underline{\hspace{2cm}}$

$220 + 70 = \underline{\hspace{2cm}}$

$530 + 40 = \underline{\hspace{2cm}}$

590

480

770

890

330

190

680

290

570

O

M

S

E

K

L

N

A

T

330	290	480	890	680
K	A	M	E	N



480	590	330	290
M	O	K	A

770	570	890	330	190	590
S	T	E	K	L	O

7. Na atletskem tekmovanju sodeluje 110 atletinj in 80 atletov.  
Koliko tekmovalcev sodeluje na tekmovanju?

$$110 + 80 = 190$$

Na tekmovanju sodeluje 190 tekmovalcev.

Odgovor: \_\_\_\_\_



**BRAVO,  
USPELO TI JE.**

4.05.2020